

1. Du kjører på veg med flere kjørefelt kjøreretning

Hva sier trafikkreglene om bruk av kjørefelt? تقود سيارتك في طريق يحتوي اكثر من مسار ماذا يقول قانون الطريق عن اللمسار

Høyre kjørefelt skal normalt brukes يجب دائما استعمال الطريق اليمين

Venstre kjørefelt skal normalt brukes.

Trafikkreglene sier ikke noe om hvilke kjørefelt som skal brukes.

Høyre kjørefelt brukes bare av de som kjører sakt.

2. Hvilke kjøretøy kan bruke kollektivfelt? اي من المركبات يمكنها استعمال المسلك الخاص بالباص

Elektrisk drivene biler (EL-biler). السيارات الكهربائيه

Lastbil med tillat totalvekt 3500 kg.

Alle type personbiler.

Motorsykkel med sidevogn.

3. Hva betyr skiltet? ماذا تعني الاشارع

Kjørefelt begynner. مسلك جديد يبدء من اليمين

Felt for fartsøkning.

Påkjoring eget felt.

Sammenfletting.




4. Bussen har stanset på holdeplass, hva er riktig? توقف الباص في محطه الانتظار
ما الذي يجب عليك فعله

Jeg kan kjører forbi med engang.

Jeg venter til bussen har kjørt.

Jeg forventer at fotgjenger kan krysse vegen utenfor gangfelt. يجب علي
الانتظار حتا يقطع المشاه اله الطريق




5-Du ønsker å kjøre forbi bil B i mørket,når skal fjernlys tennes? تريد التجاوز عن السياره ب متى تشعل الضوء العالي

Ved punkt 1. في النقظه ١

Ved punkt 2.

Ved punkt 3.




6. Hva betyr skiltningen? ماذا تعني الاشاره

Bilførerne må flette

Kjøretøy i høyre felt må vike. انتهاء مسار من اليمين.

Kjøretøy i venstre felt må vike.



7. Det er mørkt og du skal kjøre med last

Hva er riktig om markering av last? تقود سيارتك في الظلام مع حمولة ما العبارة الصحيحة

Last som er sikret godt, trenger du ikke å merke.

Last som stikker ut mer enn en meter bak bilen, skal merkes med rødt lys. الحمولة التي تكون اطول من السيارة بـ متر يجب وضع ضوء احمر

Last som stikker ut bak bilen, skal merkes med hvitlys.

Last som er plassert på bilens tak, skal merkes med rødt trekant.

8. Hva er riktig om trafikkuhel? ما الصحيح عن حوادث السير

Politiet må varsels.

Ta ut skadde personer.

De som er innblandet i trafikkuhel må oppgi navn og adresse. الذي يقوم بعمل حادث يجب ان يعطي عنوانه واسمه


9. Hvem har vikeplikt i denne situasjonen?

من لديه حق الاولويه

Vikeplikt fra høyre.

Jeg må overholdet vikeplikt for kryssende. يجب علي اعطاء حق الاولويه

Jeg har vikeplikt fra venstre.




10-Hva gjelder in denne situasjonen? ماذا ينطبق على هذا الوضع

Skiltet.

Lyssignalet. الاشاره الضوئيه

Trafikkreglene om vikeplikt.

Både lyset og skiltet.



11. Når er det flest ulykker hos ungdommer? ما هي اكثر فتره معرضين فيها الشباب للحوادث

De først 6 månedene etter førerprøven. اول ٦ شهور من تاريخ الحصول على رخصه القيادة

Ett til to år etter førerprøven.

To til tre år etter førerprøven.

Under øvelseskjøring.

12. Du skal svinge til høyre, lyset er grønt hva er riktig? تريد الانعطاف الي اليمين والضوء اخضر ماذا تفعل

Jeg skal kjøre. اقود السياره

Jeg må overholde vikeplikten for fotgjengeren.

Jeg har vikeplikt fra venstre.

Jeg har vikeplikt for forgjenger og kryssende.



13. Du rygger og krasjer en parkert bil og eieren er ikke til stede

تقوم بعمل حادث اثناء رجوعك الى الخلف مع سياره واقفه
بدون سائقها من تبلغ؟

Forsikringsselskap.

الشرطة. Politiet.

Trafikkstasjonen.

Bergingsbil.

14. Bilene skal til venstre, Hva er riktig om plassering?
ما العبارة الصحيحه تريد ان تتوجه الي اليسار

Varebilen er riktig plassert.

السياره الشخصيه وقوفها صحيح. Person bilen er riktig plassert.

Ingen plassering er riktig.

Begge er riktig plassert.



15. Hva betyr vegoppmerkingen? ماذا تعني الخطوط على الطريق

Kan krysses for å snu(venstre).

Kan krysses ved avkjøring till venstre.

Kan krysses ved forbikjøring av traktor.

Ikke tillat å krysse.

ممنوع التجاوز



16. Du Kjører bil 3500kg med tilhenger uten bremse, hva er høyest tillat hastighet? تقود سياره بحموله ٣٥٠٠ كغم مع مقطوره بدون مكابح ما اقصى سرعه للقياده?

Fartsgrensen er 80kmt

Fartsgrensen er 50kmt.

Fartsgrensen er 100kmt.

Fartsgrensen er 60kmt. ٦٠ كم في الساعه



17. Hva er riktig om veggrep (dekket gripeevne)? ما العبارة الصحيحة عن تماسك الاطارات في الطريق

Veggrepet er den samme på våt og tørr asfalt.

Hvis det begynner å regne etter en lang tørkeperiode, kan asfalten blir ekstra glatt. عندما تمطر على طريق جاف يصبح التماسك اقل

Veggrepet har ingen betydning for styring av bilen.

18. Du har fått motorstopp før svingen og får ikke flytte

Bilen med egen hjelp. Hvor bør du plassere varseltrekanten? توقف محرك السيارة عن العمل قبل مفترق طرق ولا تستطيع تحريكها اين تضع المثلث التحذيري

På taket av bilen.

I vegkanten like bak bilen.

Rundt svingen i motsatt kjøreretning. حول المنعطف وفي الاتجاه المعاكس

Ved foran skiltet.



19. Hvordan bør du kjøre for forurensning minst mulig? كيف تقود لتجنب تلوث البيئة

Jeg bør kjøre så jevnt hastighet som mulig يجب ان تكون القيادة متوازيه وعلى سرعه ثابتة بقدر الامكان

Jeg bør alltid velge fart satt opp fartsgrensen på Forkjøresveg

Jeg bør alltid velge å kjøre motoren på forholdsvis høy turtle

20. Trafikkregler krever enkelt situasjon at du skal gi fri veg

Hvem av disse skal du gi fri veg? قانون الطريق ينص على اعطاء حق الاولويه دائما وفتح الطريق لاحدى المركبات التاليه

Stoppe for vannlig trafikk fra høyre.

Slippe over fotgjengere i gangfelt.

Kjøre med blinkende gult lys.

kjøretøy med blinkende blått lys. المركبات مع الضوء الازرق شرطه اسعاف اطفائيه

21. Du har førerkort kl B hva kan du lovlig kjøre? مع رخصه قياده فنه ب ماذا تستطيع ان تقود

Personbil med tillat totalvekt opptil 3500 kg Og lett motorsykkel.

Personbil med tillat totalvekt 3300 kg og tilhenger med tillat totalvekt 100kg.

Personbil med tillat totalvekt 3500 kg og Tilhenger med tillat totalvekt 750kg.

استطيع قياده سياره وزنها الاجمالي ٣٥٠٠ او مع مقطوره وزنها ٧٥٠

Minibuss med tillat totalvekt 3500 kg uten Passasjerer.

22. Hva betyr skiltet? ماذا تعني الاشاره

Møtende kjøretøy har vikeplikt. الاتجاه المعاكس لهم حق الاولويه

Møteplass på smal veg.

Vikeplikt ved feltskifte.

Forbikjøring forbudt.



23. Hva betyr skiltet? ماذا تعني الاشارة

Felt for fartsøkning.

Fletting.

Påkjøring i eget kjørefelt. الالتزام بالمسلك الخاص

Felt for avkjøring.



24. Du ønsker å kjøre forbi bussen hva er riktig? تريد ان تتجاوز عن الباص ؟

Jeg må kjøre forbi i høyre side.

Jeg må kjøre forbi på venstre side يتم التجاوز من جهة اليسار فقط

Jeg kan velge hvilken side jeg kjører forbi på.

Jeg kan ikke starte forbikjøring her.



25: Hvem har ansvar for barn under 14 år i bilen ? من مسؤول عن
الاطفال تحت سن ١٤

Føreren. السائق.

Foreldre.

Bil eieren.

Ingen.

26.Hva betyr kjøretøy foran har en rødt trekant ? ماذا تعني عربيه مع
مثلث احمر امامك

Det er en tilhenger. مقطوره.

Det er en lastebil.

Det er en varebil.

Det er en traktor.

27:Hvor mange meter beveger bilen seg i løpet av ett

| sekund når du kjører i 70 km/t? كم متر تسير السياره في الثانيه بسرعه ٧٠ كم
في الساعه؟

8 meter.

14 meter.

19 meter. ١٩ متر

25 meter.

28.Hvilken kjøretøy kan benytte feltet til høyre? اي من المركبات تستطيع استخدام المسلك اليمين

Traktør.

Motorsykel. الدراجة النارية

Taxi.

Person bil med flere passasjerer.

29.Hva betyr skiltet? ماذا تعني الاشاره

Envegkjøring.

Påbudt kjøreretning til høyre. طريق الزامي لليمين

Forbudt å svinge til høyre.

Omkjøring.



30.Hva betyr skiltet? ماذا تعني الاشاره

Sykkelveg

Gangfelt. خط مشاه

Gågate.

Gatetun.



31.Hva betyr skiltet? ماذا تعني الاشاره

Forbudt for motorvogn. ممنوع دخول السيارات والدراجات الناريه

Parkering forbud for bil og motorsykkel.

Forbudt for trelsykkel.

Forbikjøring forbudt.




32.Hvilke betydning får skiltet for videre kjøring? ماذا تعني الاشاره حين نريد التقدم

Trafikk fra sidevegn har vikeplikt.

Kjørefelt slutter og jeg må skift felt.

Veien fra høyre forsetter i eget kjørefelt

Jeg må forvente fletting med trafikk fra sidevegn. يجب الانتظار
السيارات من جهة اليمين لتندمج بالمسلك



33.Hva er riktig om parkering? ما العبارة الصحيحة التي تخص الوقوف

Det er alltid tillat å parkere forkjørsveg.

Jeg kan parkere enn nærmere enn 5 meter etter et Gangfelt.

Jeg kan parkere nærmere enn 5 meter før et gangfelt. استطيع الوقف ٥ متر من خط المشاة

Jeg kan parkere på motorveg.


34.Hva forteller skiltet deg? ماذا تخبرك الاشارة

Jeg skal flette sammen trafikk fra sidevegn.

Jeg har vikeplikt for trafikk fra sideveg.

Avkjøringsfelt starter.

Trafikk fra sidevegn får eget kjørefelt. لك مسلك طريق خاص به



35.Hva betyr det at en bilfører skal gi fri veg? ماذا يعني ان تفتح الطريق لبعض المركبات

Stoppe for vannlig trafikk fra høyre.

Slippe over fotgjengere i gangfelt.

Kjøre sakte når det er eldre i vegbanen.

Om nødvendig stanse for utrykningskjøretøy هو الوقوف الاطاري للمركبات مع الضوء الازرق

med blått blinkende lys.

36.Hva sier trafikkreglene om høyeste fart etter at du har passert dette skiltet? كم السرعة التي تسير بها بعد رؤيتك الاشاره التاليه

Gangfart. سرعه المشاه

30 km/t.

40 km/t.

50 km/t.



37.Det er like før du møtebilen du ser på tegningen.

Hva er riktig?

Jeg ser langt fram langs høyre vegkant.

Jeg ser mot møtende bil til denne skifter fjærnllys.

Jeg må se mye i speilet for å unngå å bli blindet av lysene.



38.Hviken utstyr eller ting er det påpuđt å ha i bilen under kjøring?

ما هي الادوات الالزاميه التي يجب ان تكون بحوزتنا اثناء القيادة

عواكس وماثلث التبيهي . Refleksvest eller varseltrekant.

Joggesko.

Brødknive.

Ekstra hjul.

39.Du har hatt en uhel under kjøring og må regne med

Politietterforskning.Hvor leng etter avsluttet kjøring må du vente før du Kan drikke alkohol
ما هي المده التي يجب عليك الانتظار قبل ان تشرب الكحول بعد تعرضك لحادث او مشاهده حادث

3 timer.

6 timer. ٦ ساعات

9 timer.

40.Hva er promille grense i Norge???? ما هي نسبه الكحول المسموح بها

0,5.

0,20.

1,5.

0,1.

41. Det har skjedd en ulykke med alvorlig person skade.

Du kommer som første til skade stedet. Hva er riktig?

Hvis jeg blir syk å se blod, trenger jeg ikke å stanse.

Jeg plikter å stanse og hjelpe.

Jeg kjører videre, men ringer etter hjelp.

Hvis jeg ikke kan førstehjelp, trenger jeg ikke å stanse.

42. Hva forteller skiltet? ماذا تخبر الاشارة

Vegen jeg kjører på E 6.

اسم الطريق ورمز شارع اوروبي E6. Vegen er E6.



43. Hva forteller skiltet? ماذا تخبر الاشارة



اسم الطريق وطريق اوروبي E 6. Vegen jeg kjører til er E 6.

eller veien fører til E6.

